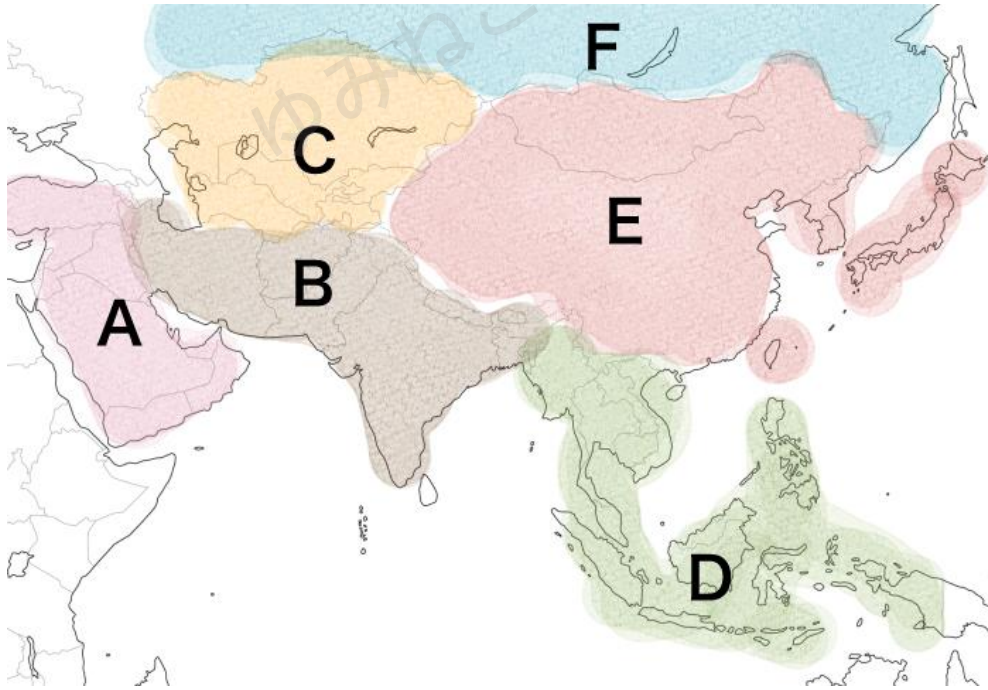


「アジア州の自然環境」定期テスト対策練習問題

年	組	番	名前
---	---	---	----

問1 アジア州を含む大陸の名前を答えなさい。

問2 下の地図はアジア州の6つの地域区分を表している。A～Fの地域をそれぞれ答えなさい。



【A】

【B】

【C】

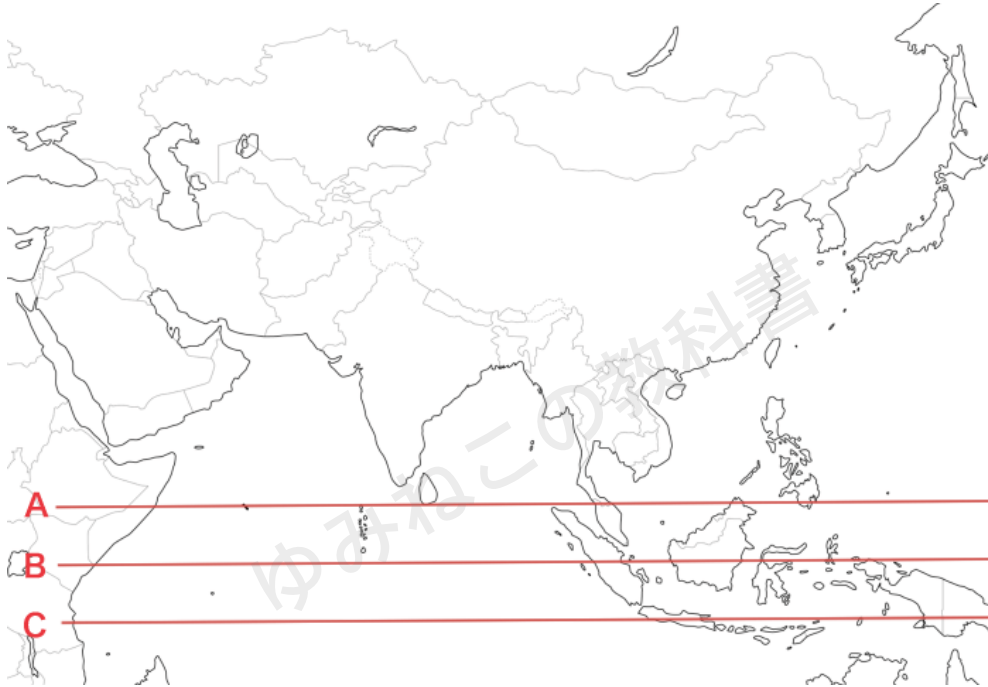
【D】

【E】

【F】



問3 下の地図の赤線A・B・Cのうち、赤道の位置を正しく表しているものを選び丸で囲みなさい。



- A
- B
- C

問4 アジア中央に位置する、8000mを超える山脈を何というか答えなさい。

問5 「世界の屋根」と呼ばれる、4000m以上の高原を何というか答えなさい。

問6 アジア中央部の高地が属する気候を何というか答えなさい。



問7 アジア北部が属する気候帯を2つ答えなさい。

問8 アジアの内陸部が主に属する気候帯を答えなさい。

問9 アジア東部の沿岸では四季が明確である。この気候帯を何というか答えなさい。

問10 アジアの赤道付近が属する気候帯を答えなさい。

問11 東アジアから南アジアにかけての地域で、季節によって吹く向きが逆になる風のことを何と呼ぶか答えなさい。

問12 夏の日本において、季節風が吹く向きを次の中から選び丸で囲みなさい。

- ア：北西の風
- イ：北風
- ウ：南西の風
- エ：南東の風

問13 冬の日本において、季節風が吹く向きを次の中から選び丸で囲みなさい。

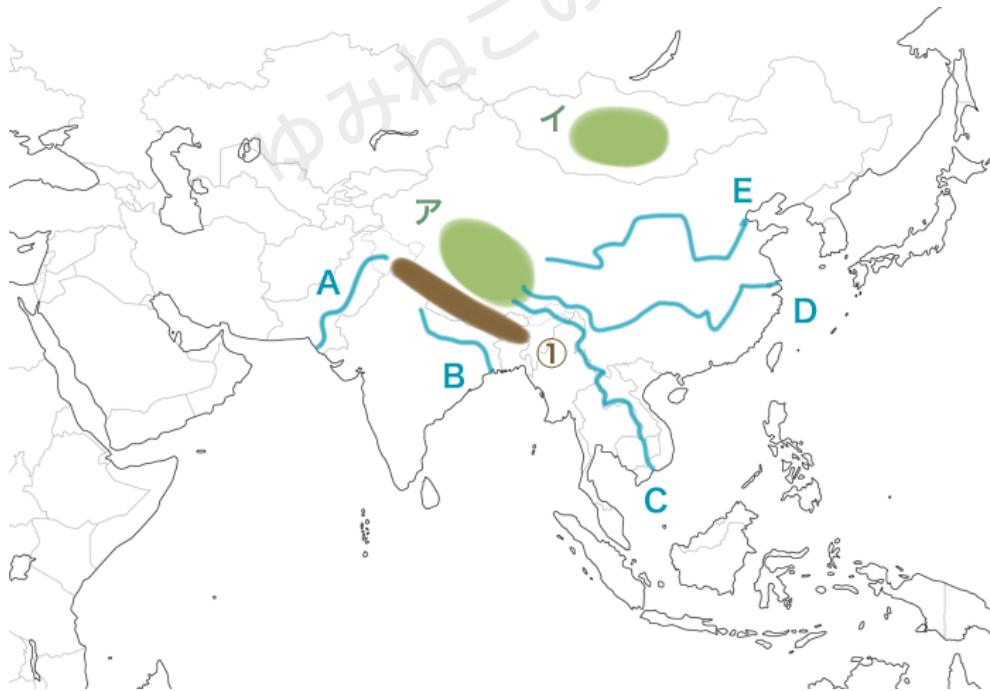
- ア：北西の風
- イ：北風
- ウ：南西の風
- エ：南東の風



問14 季節風の影響により、インドシナ半島やインド半島では、降水量の多い時期と少ない時期がある。この2つの時期を何というかそれぞれ答えなさい。

問15 世界の人口に対して、アジア州の人口がおよそ何割を占めるか答えなさい。

次の地図を見て問題に答えなさい。



問16 ①の山脈を何というか答えなさい。

問17 Aの河川の名前を答えなさい。



問 1 8 Bの河川の名前を答えなさい。

問 1 9 Cの河川の名前を答えなさい。

問 2 0 Dの河川の名前を答えなさい。

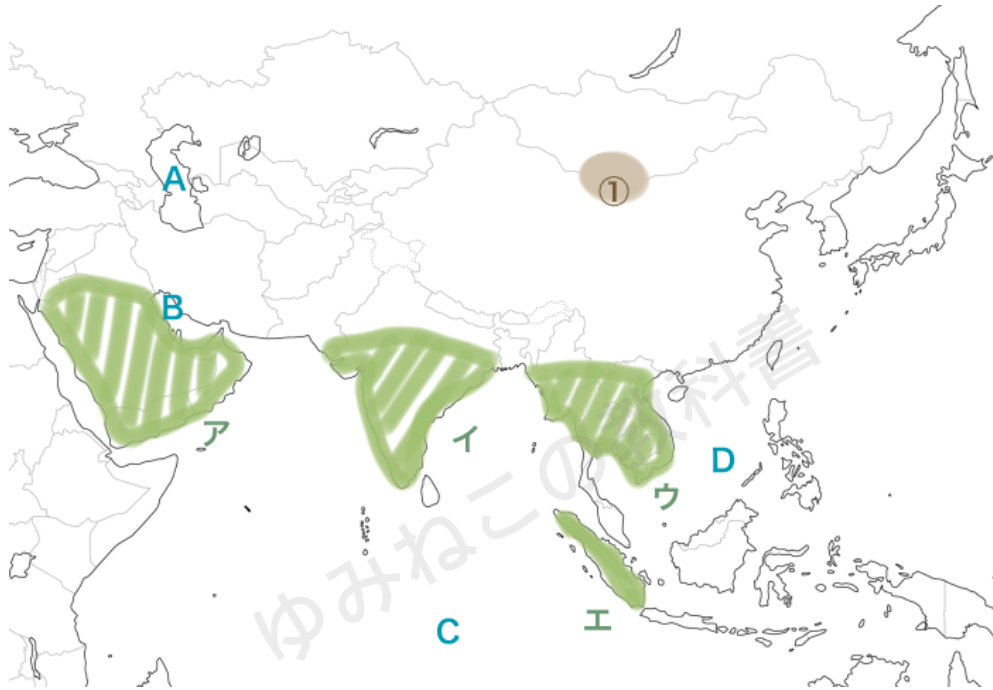
問 2 1 Eの河川の名前を答えなさい。

問 2 2 アの高原の名前を答えなさい。

問 2 3 イの高原の名前を答えなさい。



次の地図を見て問題に答えなさい。



問 2 4 Aの湖の名前を答えなさい。

問 2 5 Bの湾の名前を答えなさい。

問 2 6 Cの海洋の名前を答えなさい。

問 2 7 Dの海洋の名前を答えなさい。

問 2 8 アの半島の名前を答えなさい。



問 2 9 イの半島の名前を答えなさい。

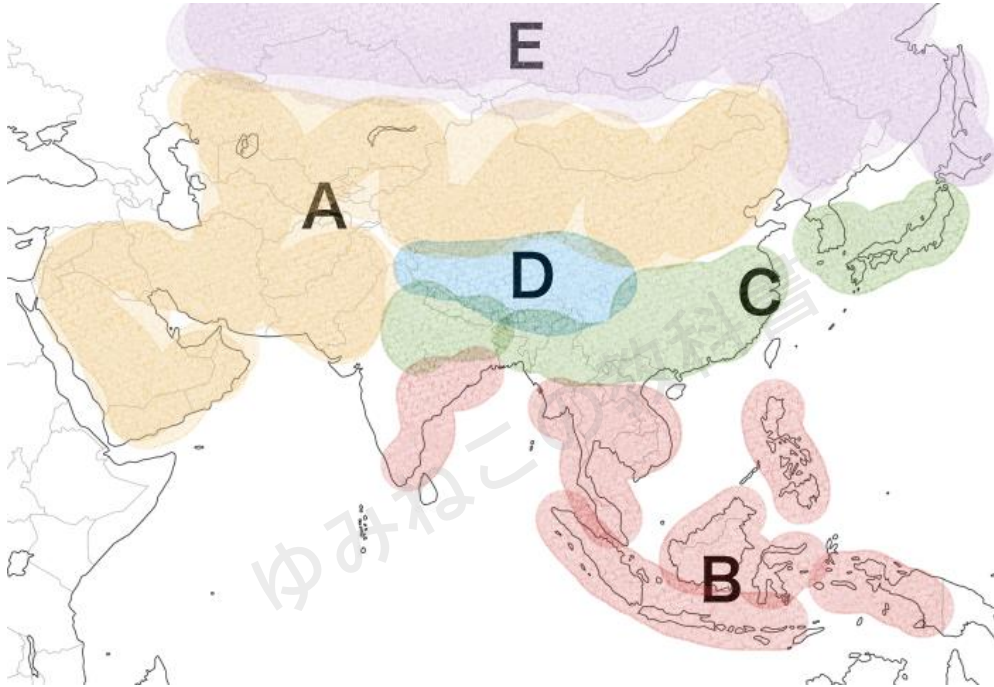
問 3 0 ウの半島の名前を答えなさい。

問 3 1 エの島の名前を答えなさい。

問 3 2 ①の砂漠の名前を答えなさい。



問33 下の地図は、アジア州の気候帯区分を表している。A～Eの気候帯をそれぞれ答えなさい。



【A】

【B】

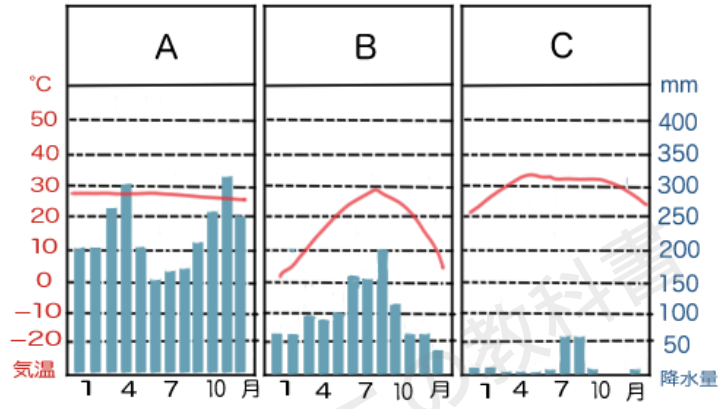
【C】

【D】

【E】



問34 下のA～Cの雨温図はアジアの気候帯のうちどれか、それぞれ答えなさい。



【A】

【B】

【C】



「アジア州の自然環境」定期テスト対策練習問題と 過去問まとめ（解答）

問1 ユーラシア大陸

問2 A：西アジア
B：南アジア
C：中央アジア
D：東南アジア
E：東アジア
F：北アジア

【解説】北アジアをのぞく5つの地域に分ける場合もある。

問3 B

問4 ヒマラヤ山脈

【解説】ヒマラヤ山脈は、世界最高峰のエベレストを含む山脈。

問5 チベット高原

【解説】世界でもっとも標高が高い高原であることから、世界の屋根と呼ばれている。

問6 高山気候

【解説】高山気候とは、標高の高い山岳地帯にみられる特有な気候で、ケッペンの気候区分には含まれていなかったが後に追加されたもの。気圧が低く、地表からの熱の影響が少ないため、低地に比べて気温が低い。



問7 ・寒帯

・冷帯（亜寒帯）

【解説】「冷帯」と「亜寒帯」は、どちらも同じ気候帯を指す言葉。温帯と寒帯の中間に位置する気候帯のこと。「亜」という漢字には「次に」とか「二番目の」という意味がある。なので、「寒帯の次に寒い」と覚えよう。

問8 乾燥帯

【解説】アジアの内陸部では、太平洋やインド洋から吹く季節風の影響を受けないため、1年をとおしてあまり雨が降らないため乾燥した気候となる。

問9 温帯

問10 熱帯

【解説】赤道付近は、1年をとおして気温が高い熱帯である。

問11 季節風（モンスーン）

問12 エ

【解説】夏には、太平洋から大陸に向かって南東の風が吹く。

問13 ア

【解説】冬には、大陸から太平洋に向かって北西の風が吹く。

問14 降水量の多い時期：雨季

降水量の少ない時期：乾季



問 1 5 約 6 割

問 1 6 ヒマラヤ山脈

問 1 7 インダス川

問 1 8 ガンジス川

問 1 9 メコン川

【解説】アジアの河川では、インダス川・ガンジス川・長江・黄河が頻出。余裕があればメコン川も覚えておこう。

問 2 0 長江

問 2 1 黄河

問 2 2 チベット高原

問 2 3 モンゴル高原

問 2 4 カスピ海

【解説】世界最大の湖。名称は「海」となっているが、地形的には一般的に湖として扱われている。



問25 ペルシャ湾

問26 インド洋

問27 南シナ海

問28 アラビア半島

問29 インド半島

問30 インドシナ半島

【解説】なお、インドシナ半島と陸続きの細長い半島はマレー半島。

問31 スマトラ島

問32 ゴビ砂漠

問33 A：乾燥帯

B：熱帯

C：温帯

D：寒帯

E：冷帯（亜寒帯）

【解説】Aのアジア内陸部や西アジアは、太平洋やインド洋から吹く季節風の影響を受けないため、降水量が少ない乾燥帯。Bは赤道付近になるため、1年をとおして気温が高い熱帯。Dはチベット高原あたりの内陸部は標高が高いため、気温が低く寒帯に分類される。



- 問34 A：熱帯
B：温帯
C：乾燥帯

【解説】Aの雨温図は、一年を通して気温が高く、降水量が多いことから熱帯。Bの雨温図は、適度な降水量があり、年間でもっとも寒い月でも平均気温が -3°C よりも高いことから温帯。Cの雨温図は、1年を通してあまり雨が降らないことから乾燥帯とわかる。

