

「100より おおきい かず」

年	組	番	名前
---	---	---	----

問1 つぎの () にはいる すうじを こたえましょう。

91-92-(あ)-94-95-96-(い)-98-
99-100-(う)-102-(え)-(お)-105
-106

【あ】

【い】

【う】

【え】

【お】



問2 つぎの () に はいる すうじを こたえましょう。

120 - 121 - (あ) - 123 - 124 - 125
137 - 138 - 139 - (い) - 141 - 142
166 - 167 - 168 - (う) - (え) - 171
198 - 197 - 196 - (お) - 194 - 193

【あ】

【い】

【う】

【え】

【お】

問3 つぎの かずを すうじで かきましょう。

あ：ひゃくにじゅういち

い：ひゃくさん

う：にひゃくさんじゅう

え：ひゃくごじゅう

お：ひゃくなな



問4 つぎの すうじの よみかたを ひらがなで
かきましょう。

あ：222

い：108

う：110

え：209

お：135

【あ】

【い】

【う】

【え】

【お】



問5 つぎの すうじが いくつに なるか こたえましょう。

あ：100と20

い：100と3

う：100と19

え：100と31

お：100と27

【あ】

【い】

【う】

【え】

【お】



問6 92から139までの すうじが じゅんばんに ならんで います。うえの 「あ」～「し」に はいる すうじを それ ぞれ こたえましょう。

92	93	94	95	96	97	あ	99
100	101	102	い	104	105	106	107
108	う	110	え	112	113	114	115
116	117	お	119	か	121	122	123
124	125	126	き	128	く	け	131
132	133	こ	135	さ	し	138	139

【あ】

【い】

【う】

【え】

【お】

【か】

【き】

【く】

【け】

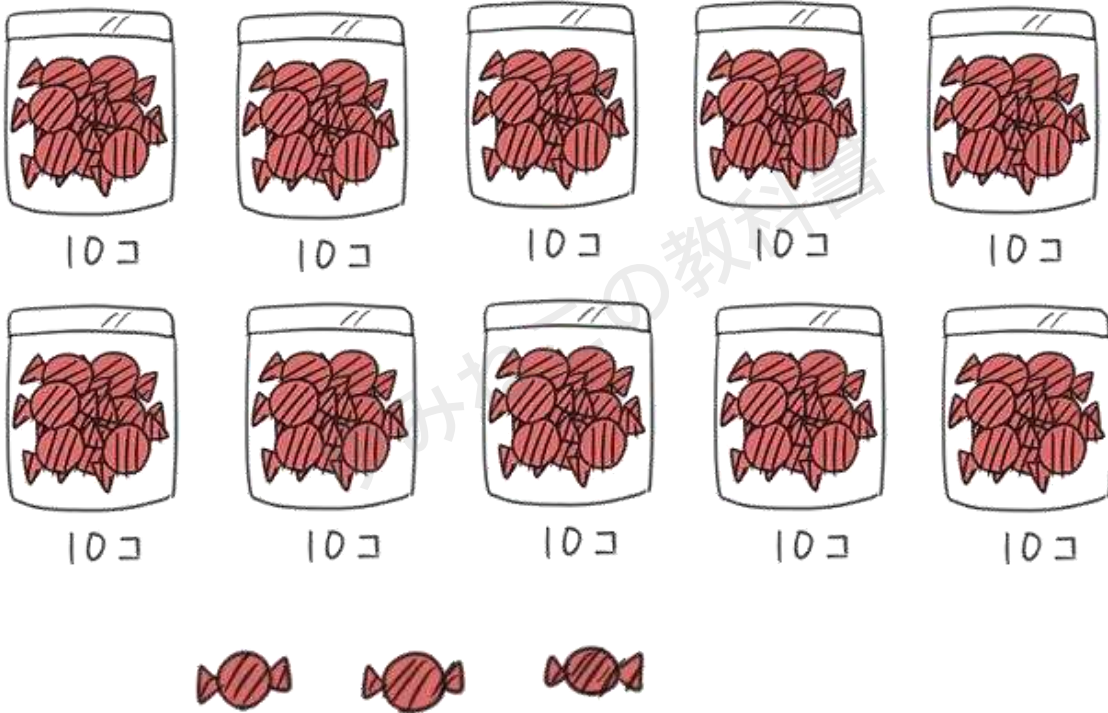
【こ】

【さ】


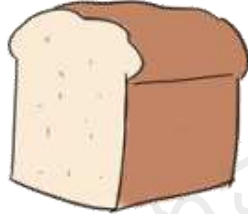


【し】



問7 したの イラストの あめの かずを すうじで かきましょう。



つぎの 似たものについて といに 答えましょう。

あ	い	う	え
			
216円	118円	132円	98円

問8 それぞれの 値段を ひらがなで 答えましょう。

【あ】

【い】

【う】

【え】



問9 200えんで かえる ものを すべて こたえましょう。

問10 100えんで かえる ものを すべて こたえ
ましょう。

問11 それぞれを、やすい じゅんばんに ならびかえ
ましょう。



「100より おおきい かず」 (解答)

- 問1 【あ】 93 【い】 97
【う】 101 【え】 103
【お】 104

- 問2 【あ】 122 【い】 140
【う】 169 【え】 170
【お】 195

【かいせつ】 いちばんさいごの 198-197-196・・・は、ひとつずつ かずが ちいさく になっているので、ちゅうい しよう。

- 問3 【あ】 121 【い】 103
【う】 230 【え】 150
【お】 107

- 問4 【あ】 にひゃくにじゅうに 【い】 ひゃくはち
【う】 ひゃくじゅう 【え】 にひゃくきゅう
【お】 ひゃくさんじゅうご



問5 【あ】 1 2 0 【い】 1 0 3
 【う】 1 1 9 【え】 1 3 1
 【お】 1 2 7

問6 【あ】 9 8 【い】 1 0 3
 【う】 1 0 9 【え】 1 1 1
 【お】 1 1 8 【か】 1 2 0
 【き】 1 2 7 【く】 1 2 9
 【け】 1 3 0 【こ】 1 3 4
 【さ】 1 3 6 【し】 1 3 7

問7 1 0 3

問8 【あ】 にひゃくじゅうろく (えん)
 【い】 ひゃくじゅうはち (えん)
 【う】 ひゃくさんじゅうに (えん)
 【え】 きゅうじゅうはち (えん)

問9 い・う・え

問10 え



問 | | え→い→う→あ

