

「10よりおおきいかず」

| | | | |
|---|---|---|----|
| 年 | 組 | 番 | 名前 |
|---|---|---|----|

問1 かずが じゅんばんに ならんで います。
 () に はいる かずを かきましょう。


11 () 13 14 15 () 17 ()
 19 ()

問2 つぎの すうじを ちいさい じゅんに ならべましょう。

15、18、20、14、16、11、17、10、13



問3 2つずつ ○で かこんで、いくつ あるか
かぞえましょう。



 こ

問4 5つずつ ○で かこんで、いくつ あるか
かぞえましょう。



 (ほん・ほん・ほん)



問5 ()にはいる かずを かきましょう。

① 17は10と() ② 13は10と()

③ 14は()と4 ④ ()は10と2

⑤ 18は10と() ⑥ 20は10と()

⑦ 11は()と1 ⑧ ()は10と10

⑨ 15は()と5 ⑩ 16は10と()

⑪ 19は10と() ⑫ 12は10と()

⑬ ()は10と4 ⑭ ()は10と1

⑮ 19は()と9 ⑯ ()は10と7

⑰ 13は()と3 ⑱ ()は10と8


⑲ 17は()と7 ⑳ 15は10と()




「10よりおおきいかず」 (解答)

問1 11 (12) 13 14 15 (16) 17 (18)
19 (20)

問2 10、11、13、14、15、16、17、18、20



13こ



18ぽん



問5 ()にはいる かずを かきましょう。

① 17は10と(7)

② 13は10と(3)

③ 14は(10)と4

④ (12)は10と2

⑤ 18は10と(8)

⑥ 20は10と(10)

⑦ 11は(10)と1

⑧ (20)は10と10

⑨ 15は(10)と5

⑩ 16は10と(6)

⑪ 19は10と(9)

⑫ 12は10と(2)

⑬ (14)は10と4

⑭ (11)は10と1

⑮ 19は(10)と9

⑯ (17)は10と7

⑰ 13は(10)と3

⑱ (18)は10と8

⑲ 17は(10)と7

⑳ 15は10と(5)

